

TEST DE EVALUARE INIȚIALĂ

Anul școlar 2011-2012

Disciplina Matematică

Clasa I




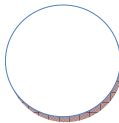

MODEL

Numele și prenumele elevului:

Data susținerii testului:

- Timpul de lucru efectiv este de 15 minute.

1. În tabelul următor sunt cinci forme geometrice.

- a) Colorează cu portocaliu caseta de sub cea mai mică figură geometrică.
b) Colorează cu roșu interiorul figurii care nu are vârfuri.

c) Scrie, în caseta dată, numărul de figuri geometrice care nu sunt triunghiuri.



2. Florin compară un copac cu un ghiocel și spune trei propoziții despre ele. Colorează cu roșu cerculețul din dreptul fiecărei propoziții adevărate.













Copacul este mai înalt decât ghiocelul.	<input type="radio"/>
Copacul este mai ușor decât ghiocelul.	<input type="radio"/>
Ghiocelul are mai multe flori decât copacul.	<input type="radio"/>



3. Corina trebuie să rezolve un exercițiu cu broscuțe.








Ajut-o să răspundă corect la cerințele de mai jos!

									
1	2	3	4	5	6	7		9	10

- Colorează cu verde a șasea broscuță.
- Scrive cifra lipsă din șir, în caseta corespunzătoare.
- Scrive, pe spațiul punctat, câte broscuțe rămân, dacă pleacă prima și ultima broscuță din șir.


.....

4. Privește imaginile de mai jos.

- Unește, cu câte o linie dreaptă, fiecare floare cu câte un fluturaș.
- Scrive, pe spațiul punctat, câte perechi ai obținut.
- Încercuiește imaginea care nu are pereche.

5. Continuă șirul cu încă 6 mărgelile, respectând ordinea culorilor.



6. Scrie, în caseta corespunzătoare, câte obiecte sunt în fiecare mulțime.

