

TEST DE EVALUARE ÎNȚIALĂ
Anul școlar 2011-2012

Disciplina Matematică

Clasa a II-a

MODEL

Numele și prenumele elevului:

Data susținerii testului:


- Timpul de lucru efectiv este de 20 de minute.

PARTEA I

1. Camelia a realizat următorul desen. Încercuiește obiectele care se află în partea de jos și colorează-le pe cele care se află în partea de sus.



2. Iată grădina lui Nelu!



Formează mulțimi care cuprind toate elementele de același fel. Scrie în caseta de mai jos numărul mulțimilor pe care le-ai obținut.

3. Gândește-te la programul tău zilnic!

Scrie A pentru „Adevărat” și F pentru „Fals” în dreptul fiecărei propoziții.

- a. Mănânc micul dejun înainte de a pleca la școală dimineața.
- b. Iau prânzul la ora 5 după-amiază.
- c. Mă joc după miezul nopții.

PARTEA a II-a



4. Ilinca trebuie să ordoneze crescător și descrescător numerele de mai jos. Ajut-o, punând numerele în căsuțele corespunzătoare.

a) 3, 9 și 8 □ □ □ □ □ □

b) 1, 7 și 0 □ □ □ □ □ □

c) 4, 2 și 6 □ □ □ □ □ □

5. Scrie următoarele numere în cifre:

a. șapte

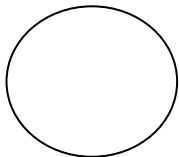
b. optzeci și nouă

c. șaisprezece

6. Unește fiecare figură geometrică cu denumirea ei:



pătrat



dreptunghi





cerc



triunghi

7. Ajută albiuța să calculeze corect:

$12 + 11 =$ 

$24 + 3 =$ 

$19 - 5 =$ 